

B 日程



2023 年度

**尚綱学院高等学校
入学試験問題**

社 会

試験時間 (50分)

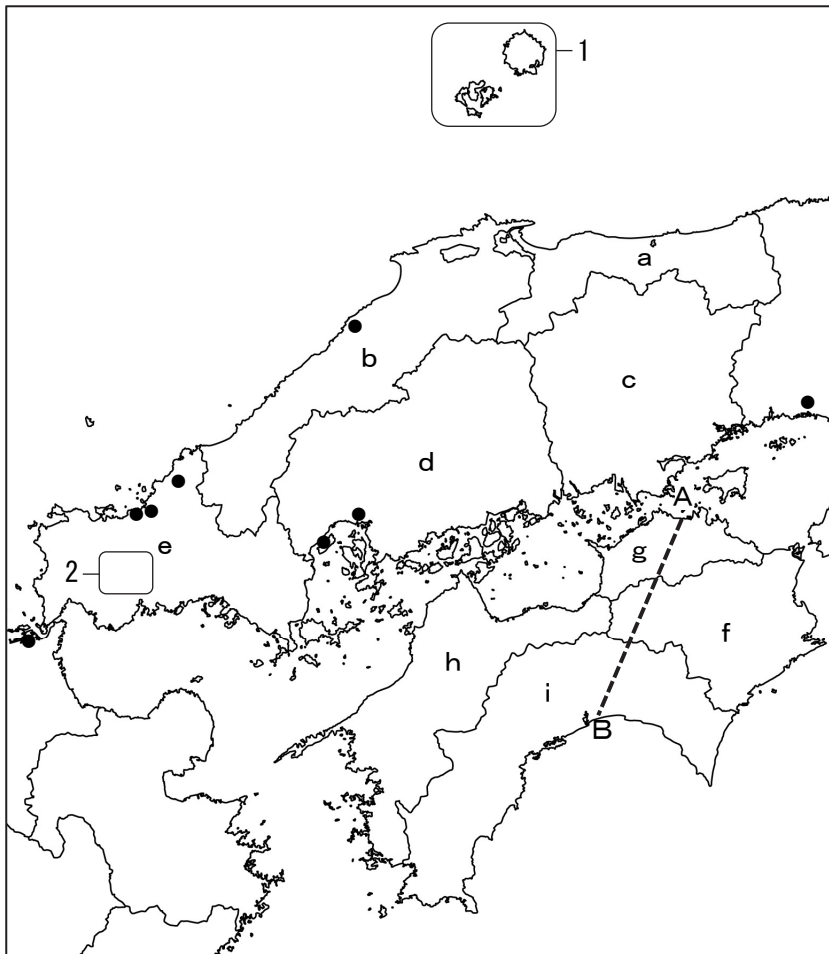
注 意 事 項

1. 「始め」の合図があるまで問題の表紙を開かないでください。
2. 解答用紙には決められた欄に受験番号のみ記入し、氏名は書かないでください。
3. 解答は必ず解答用紙のそれぞれ決められた欄に記入してください。
4. 印刷が見えにくい場合は、手をあげて監督者の指示に従ってください。
5. 考査が終わったら、解答用紙と問題用紙を別々にしておいてください。
6. その他すべて、監督者の指示に従ってください。

受験番号	
-------------	--

第一問

[1] 次の地図を見て、あとの各問いに答えなさい。



問1 地図中1に関して、鎌倉幕府を倒す計画に失敗し、この地に流されるも脱出に成功し、幕府滅亡後に建武の新政を行った天皇の名前を、答えなさい。

問2 地図中2に関して、この地域には日本最大級の石灰岩台地があり、雨水などで石灰岩が浸食された鍾乳洞しょうにゅうどうが見られる。このような地形の名称を、カタカナで答えなさい。

問3 地図中●はあるものの分布を示している。あてはまるものを、次のア～エから一つ選び、記号で答えなさい。

- | | |
|---------------|--------------|
| ア 高炉一貫の製鉄所 | イ アメリカ軍の軍用施設 |
| ウ 世界文化遺産の構成資産 | エ 半導体集積回路工場 |

問4 地図中a～iの県に関して、次の各問いに答えなさい。

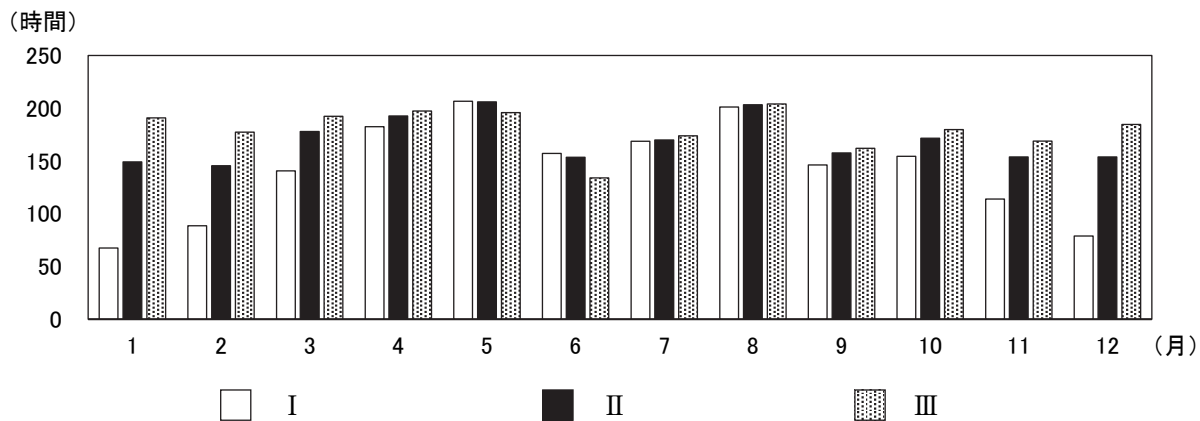
(1) 県の名称と県庁所在地の名称が異なる県はいくつあるか、算用数字で答えなさい。

(2) 次の表は地図中の **a**, **c**, **f**, **i** のそれぞれの県における農業産出額上位 5 位までの品目を示したものである。地図中の **i** の県にあてはまるものを、次の **ア**~**エ** から一つ選び、記号で答えなさい。

	ア	イ	ウ	エ
1 位	米	なす	米	米
2 位	鶏卵	米	さつまいも	ブロイラー
3 位	ぶどう	みょうが	ブロイラー	生乳
4 位	生乳	しょうが	にんじん	肉用牛
5 位	肉用牛	にら	肉用牛	日本なし

(農林水産省「令和 2 年 生産農業所得統計」より作成)

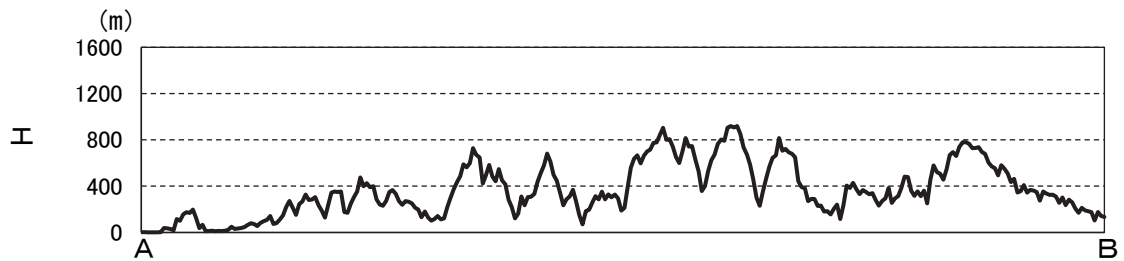
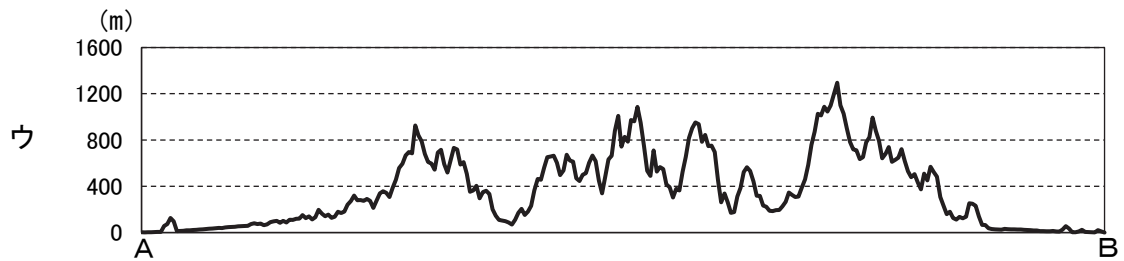
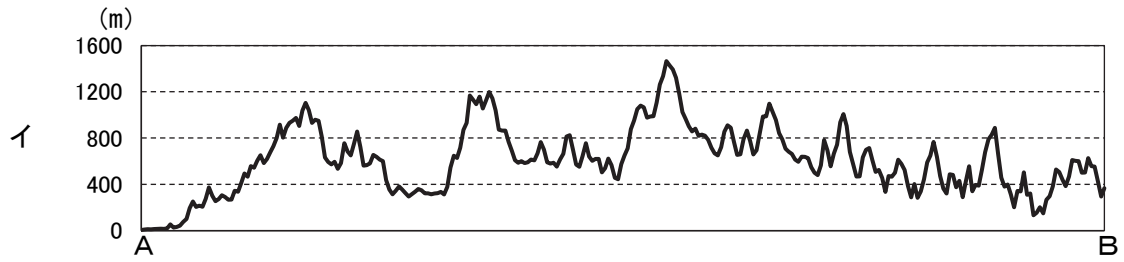
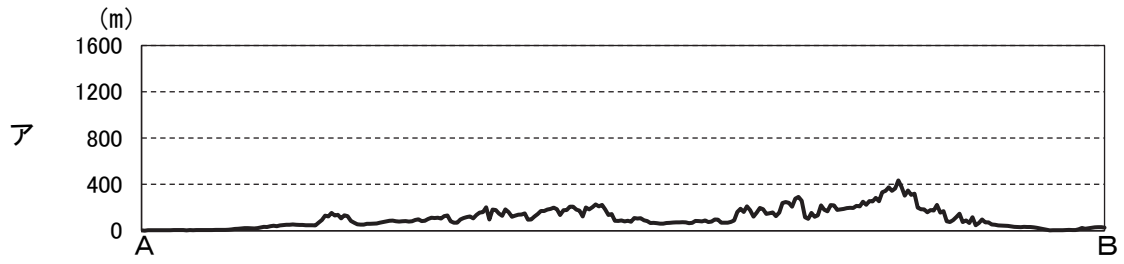
(3) 次のグラフは地図中の **b**, **c**, **i** のそれぞれの県の県庁所在地における月ごとの日照時間を示したものである。それぞれの県にあてはまるものの組み合わせとして正しいものを、あとの **ア**~**エ** から一つ選び、記号で答えなさい。



(気象庁ホームページより作成)

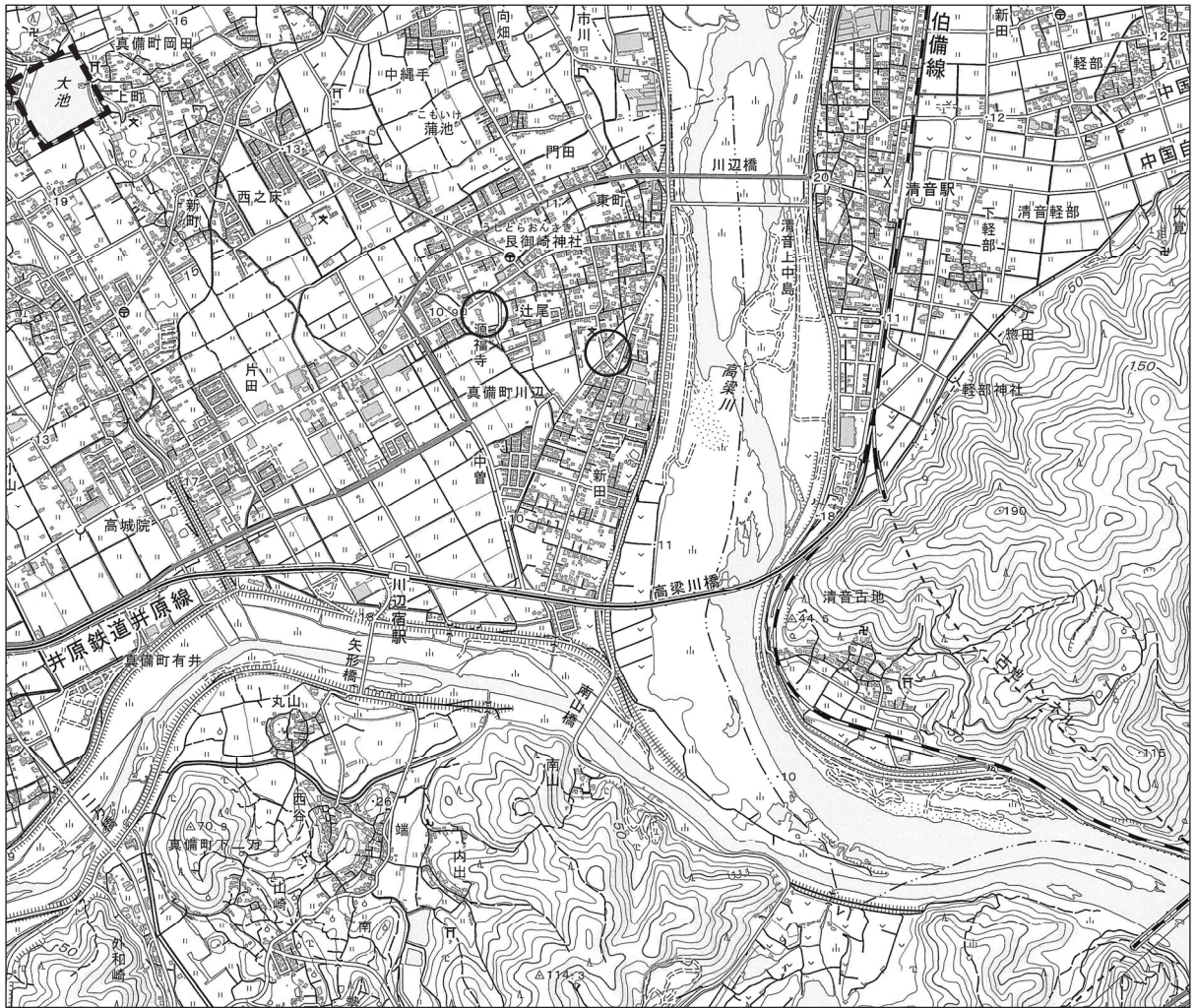
ア I - b II - c III - i
 イ I - c II - b III - i
ウ I - b II - i III - c
 エ I - i II - c III - b


問5 地図中-----のA B間の断面図にあてはまるものを, 次のア~エから一つ選び, 記号で答えなさい。




(国土地理院ホームページより作成)

問6 次の地形図は、地図中のc県に位置する倉敷市（国土地理院 25000分の1の地形図 箭田）のものである。あとの各問いに答えなさい。



(1) 国土地理院のホームページを見ると、地形図中の○で囲った部分には、の地図記号が見られる。この地図記号は何を表すものか、あてはまるものを、次のア～エから一つ選び、記号で答えなさい。

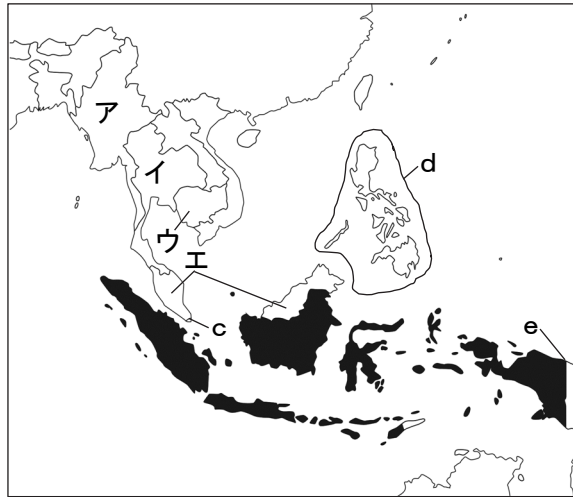
- ア 消防署 イ 墓地 ウ 記念碑 エ 自然災害伝承碑

(2) 地形図中の大池の周辺を囲ったの部分と、たて、よこともに1cmであった。実際の面積を求めなさい。

[2] 次の地図を見て、あとの各問いに答えなさい。



〈地図1〉



〈地図2〉

問7 〈地図1〉中のaの河川について、次の各問いに答えなさい。

- (1) この河川の名称を、答えなさい。
- (2) この河川にアスワン・ハイ・ダムを建設する際、水没の危機にあったヌビア遺跡を保存する活動が、のちに世界遺産条約締結へとつながった。現在、世界遺産の活動を推進している国際連合の機関を何というか、カタカナ4字で答えなさい。

問8 〈地図1〉中のbの国では、かつて白人と黒人を隔離する政策が行われ、国際社会から非難を受けていた。この政策の名称を、カタカナで答えなさい。

問9 〈地図2〉中のcの国の人口のおよそ4分の3（2012年）は中国からの移民で構成されている。居住地の国籍を取得した中国系の人々を何というか、漢字二字で答えなさい。

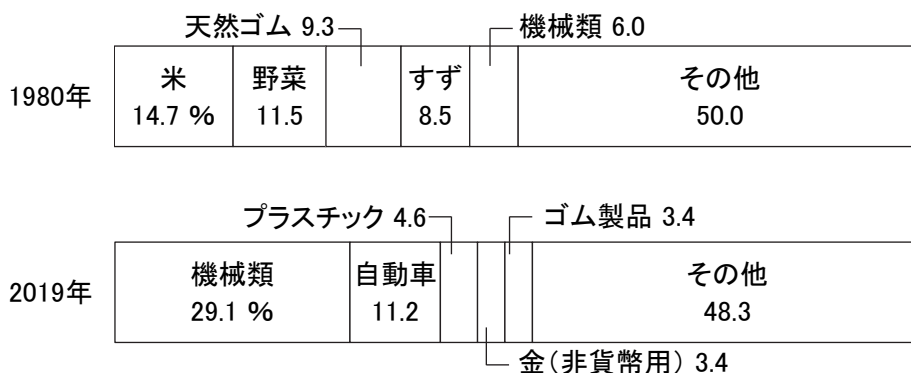
問10 〈地図2〉中のdの国で最も多くの人々が信仰している宗教を、次のア～エから一つ選び、記号で答えなさい。

ア キリスト教 イ 仏教 ウ イスラム教 エ ヒンドゥー教

問11 〈地図2〉中のeの国境線は、東経141度線を基準に設けられている。この経線について述べた文として正しいものを、次のア～エから一つ選び、記号で答えなさい。

ア 屋久島を通る経線である。 イ 滋賀県を通る経線である。
ウ 宮城県を通る経線である。 エ 択捉島を通る経線である。

問 12 次のグラフは〈地図 2〉中のある国の輸出品の変化を示したものである。あてはまる国を、〈地図 2〉中のア～エから一つ選び、記号で答えなさい。



(国連資料, 「世界国勢図会 2021/22」より作成)

問 13 〈地図 1〉, 〈地図 2〉中の [] の国々で世界の生産量の約 73.8% (2019 年) を占める作物を、次のア～エから一つ選び、記号で答えなさい。

ア コーヒー豆 イ 茶 ウ カカオ豆 エ 落花生

第二問

桜さんのクラスでは、社会科の歴史分野の授業で、宮城県と他地域との交流について調べることになった。次はA～Fのそれぞれの班が調べた時代とその内容である。あとの各問いに答えなさい。

班	時代	内容
A	縄文～ 1 弥生	松島湾内にある宮戸島の里浜 2 貝塚の調査で、縄文時代後期以降に製塩土器を使って塩がつくられていたことが確認されており、その塩などを山のムラに運び、山でとれるものと 3 交換していた。また、九州北部に伝わった稲作は、東北地方にも広まった。
B	奈良	7 世紀半ば以降、近畿地方で 4 律令 ^{りつりょう} 国家が成立し、東北地方にも国府がつくられた。当初の陸奥国の国府は仙台市の郡山遺跡に置かれたといわれている。574 年に <input type="text" value="6"/> に移され、近畿地方から <input type="text" value="6"/> まで、東山道が整備された。
C	平安	7 藤原時平が編纂 ^{へんさん} し始めた延喜式という規則では、陸奥国から 8 平安京まで税を運ぶためにかかる日数は 50 日と定められた。また、9 秋 ^{あき} 、露、鹿の歌枕として宮城野を用いた和歌が多く詠まれており、当時の都の人々の宮城野への憧憬をうかがいしることができる。
D	10 鎌倉	陸奥国分寺の周辺は国分原 ^{こくぶがはら} とも呼ばれた。鎌倉幕府の成立のようすを知ることができる『吾妻鏡 ^{あづまがみ} 』に、11 藤原泰衡が国分原に陣を構え、源頼朝を迎えたと書かれている。
E	江戸	仙台に入った伊達政宗は城下町、新田の開発に加え、12 石巻、荒浜の 2 つの河口港と松島湾の寒風沢の港の整備を行った。13 18 世紀には 100 万石の米がとれていたとされる仙台藩から、14 江戸や大阪へ多くの米が送られていたという。
F	明治以降	1878 年、東北の発展のために 15 大久保利通がオランダ人技師ファン・ドールンに命じて始めた野蒜築港 ^{のびるちっこう} は中途での断念となったものの、1887 年に東北本線が 16 上野－塩竈間で開通し、移動が格段に速くなった。1982 年、東北新幹線が大宮－盛岡間で開通し、現在、東京－仙台間を最速 1 時間 30 分程度で往来できる。

問 1 下線部 1 に関して、次の a～c は弥生時代の日本国内のようすを記した中国の歴史書をやさしく書き直したものである。記されている年代の古い順に並べているものを、あとのア～カから一つ選び、記号で答えなさい。

- a 女王の宮殿には、物見やぐらや柵が嚴重にめぐらされ、いつも兵が警備している。
- b 楽浪郡の海のかなたに倭人^{わじん}がいて、100 くらいの国に分かれている。
- c 倭の奴国^{なこく}が皇帝にあいさつに来た。皇帝はその使いに印とひもをおくった。

- ア a→b→c イ a→c→b ウ b→a→c
 エ b→c→a オ c→a→b カ c→b→a

問2 下線部2に関して、縄文時代の貝塚から出土するものとして最も不適当なものを、次のア～エから一つ選び、記号で答えなさい。



問3 下線部3に関して、現在の日本では古くから貨幣を用いた交換が行われてきた。富本銭に続いて、708年に鑄造された銭貨の名称を答えなさい。

問4 下線部4に関して、律令は当時の中国を手本にしてつくられた。当時の中国の王朝を、次のア～エから一つ選び、記号で答えなさい。

ア 唐 イ 清 ウ 宋 エ 明

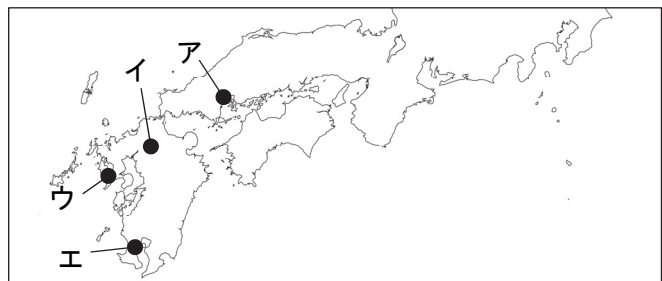
問5 下線部5に関して、次の資料は、724年に即位した天皇が出した^{みことり}詔を現代語に直したものである。この詔を出した天皇の名前を答えなさい。

…… (略) …… 朕は人々を導く仏道の修行者として、^{るしやなぶつ}盧舎那仏の金銅像一体をお造りする大願を發する。国中の銅を尽くして像を鑄造し、大きな山を削って仏堂を建築し、仏法をあまねく宇宙にひろめ、これを朕の發願による仏道修行事業としたい。この事業が成就したならば、朕も衆生も、皆同じように仏の功德を^{こうふ}蒙り、ともに仏道の悟りの境地へと至ることができよう。天下の富は天皇である朕のもとへと集約される。天下に号令する權威は天皇である朕に在る。
…… (略) ……

注) 朕 … 高貴な人が「私」というときに用いる。

問6 6に入る語を答えなさい。

問7 下線部7に関して、この人物は菅原道真を大宰府に追いやった中心人物とされる。大宰府の位置としてあてはまるものを、右の地図中のア～エから一つ選び、記号で答えなさい。




問8 下線部8に関して、平安京内を中心に起きた次の戦いを、発生時期が古い順に並べ替え、記号で答えなさい。

ア ^{ほうげん}保元の乱 イ 本能寺の変 ウ 平治の乱 エ ^{おうにん}応仁の乱

問9 下線部9に関して、この初出は『古今和歌集』である。『古今和歌集』の「仮名序」を書き、編纂の中心となった人物の名前を答えなさい。

問10 下線部10に関して、右の図は、この時代のモンゴル軍による日本侵攻を描いたものである。このときモンゴル軍とともにモンゴルに支配されていた朝鮮の兵も連れてこられた。当時の朝鮮の王朝の名称を答えなさい。



問11 下線部11に関して、奥州藤原氏の祖である藤原清衡が建立した寺院を、次のア～エから一つ選び、記号で答えなさい。

ア



イ



ウ



エ

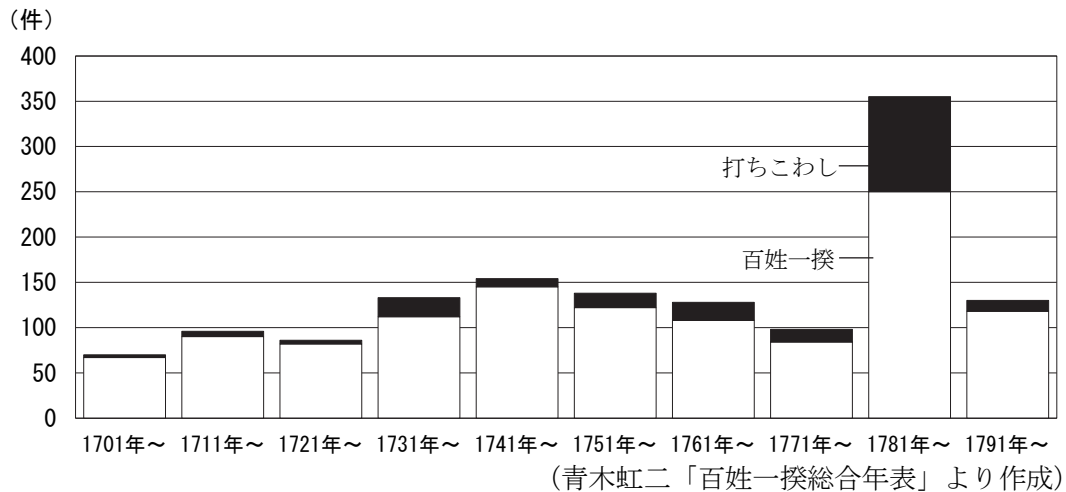


問12 下線部12に関して、それぞれの港の付近にある河川の名称の組み合わせとして正しいものを、次のア～エから一つ選び、記号で答えなさい。

	石巻	荒浜
ア	北上川	阿武隈川
イ	北上川	阿賀野川
ウ	最上川	阿武隈川
エ	最上川	阿賀野川

問 13 下線部 13 に関して、この世紀の後期には寛政の改革が行われていた。これについて、次の各問いに答えなさい。

(1) 次のグラフは、18世紀に起こった百姓一揆^{いっき}と打ちこわしの数を示している。これを見ると寛政の改革が始まった1780年代に、百姓一揆や打ちこわしが多いことがわかる。これは、改革が始まる前の年まで大ききんが起きていたからである。この大ききんの名称を答えなさい。



(2) 寛政の改革が行われていたころ、ヨーロッパのある国では次の資料が発表された。この資料が発表された国の名称を答えなさい。

第1条 人は生まれながらにして自由で、平等な権利を持つ。…
 第3条 主権の源は、もともと国民の中にある。…

問 14 下線部 14 に関して、各大名が江戸や大阪の商人と取引をするために、米を保管していた場所の名称を答えなさい。

問 15 下線部 15 に関して、次の表は、大久保利通、木戸孝允、伊藤博文、大隈重信についてまとめたものである。大久保利通にあてはまるものを、次のア～エから一つ選び、記号で答えなさい。

	長州藩出身	岩倉使節団に同行	総理大臣を経験
ア	○	○	○
イ	×	×	○
ウ	○	○	×
エ	×	○	×

問 16 下線部 16 に関して、平安京の北東に比叡山^{えんりやぐじ}延暦寺があることになり、江戸幕府は江戸城の北東にあたる上野に東叡山寛永寺を建てた。延暦寺を建てた最澄が開いた宗派の名称を答えなさい。

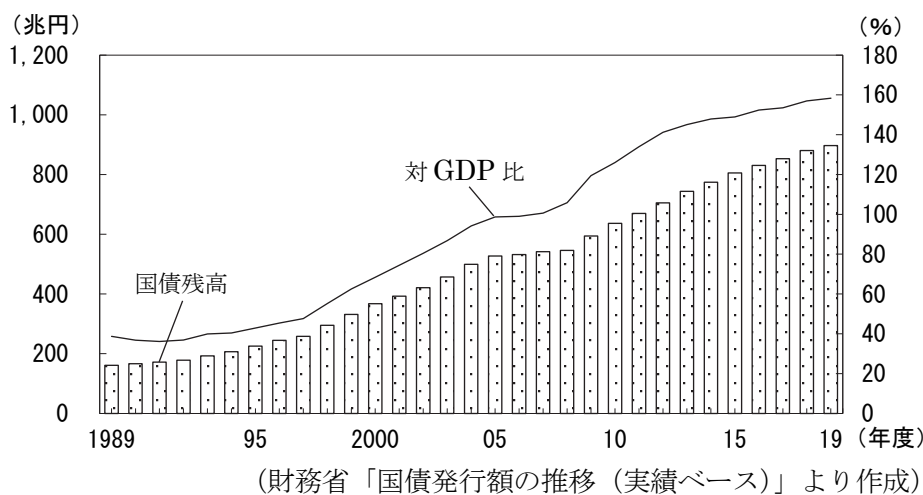
第三問

清さんは、2023年の10年前から10年ごとに気になるニュースを表にまとめた。あとの各問いに答えなさい。

10年前	2013年 4月 4日	日本銀行が「 <u>1量的・質的金融緩和</u> 」の開始を決定する
20年前	2003年 1月 10日	北朝鮮が <u>2核兵器拡散防止条約</u> を脱退する
	2003年 7月 26日	<u>3イラク復興支援特別措置法</u> が成立する
30年前	1993年 6月 9日	当時、皇太子だった現在の <u>4天皇</u> の結婚の儀が行われる
40年前	1983年 1月 1日	<u>5インターネット</u> が開始される
50年前	1973年 2月 14日	日本、 <u>6変動相場制</u> へ移行する
60年前	1963年 11月 22日	アメリカの <u>7ケネディ大統領</u> が暗殺される
70年前	1953年 2月 28日	<u>8吉田茂内閣総理大臣</u> が委員会での議員質問中に暴言をはく

問1 下線部1に関して、次の各問いに答えなさい。

- (1) 日本銀行がこの政策を行うのは、不景気が続き、物価が下がり続けているからである。不景気が続き、物価が下がる現象の名称を答えなさい。
- (2) 日本銀行は国債を買うことで、市場に出回る資金量を増やし、生産活動を活発にさせようと考えている。次のグラフは、平成の間の日本の国債残高と対GDP比を示したものである。グラフから読み取れる各文の正誤の組み合わせとして正しいものを、あとのア～エから一つ選び、記号で答えなさい。



- I 国債残高は、平成の間で4倍以上増加している。
 II 2008年度のGDPは2007年度のGDPを下回っている。

- ア I－正 II－正 イ I－正 II－誤
 ウ I－誤 II－正 エ I－誤 II－誤

問2 下線部2に関して、次の各問いに答えなさい。

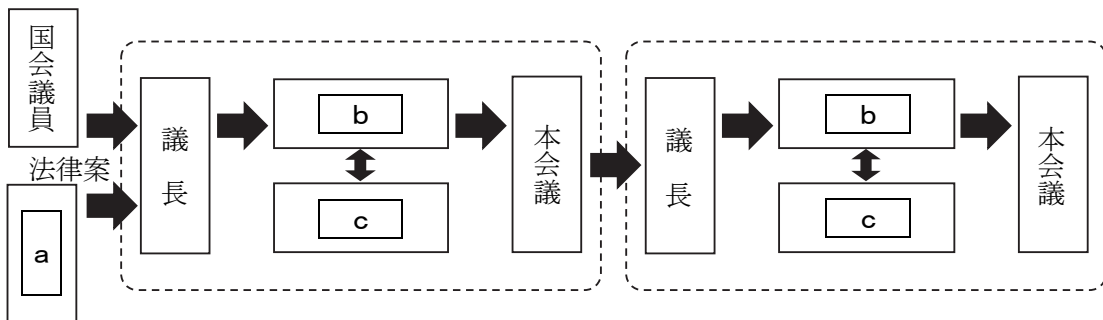
- (1) この条約は、安全保障理事会の常任理事国でもある5 大国以外の核保有を認めないものである。この条約によって核保有が認められていない国を、右の地図中のア～エから一つ選び、記号で答えなさい。



- (2) 日本は現在、核兵器に関しては非核三原則の立場を明らかにしている。次の資料に示した非核三原則の [] に入る語を答えなさい。

核兵器を、持たず、つくり、 []。

問3 下線部3に関して、法律案の成立過程を示した次の図を見て、あとの各問いに答えなさい。



- (1) 図中の a～c に入る語の組み合わせとして正しいものを、次のア～カから一つ選び、記号で答えなさい。

- ア a－内閣 b－委員会 c－審議会
- イ a－裁判所 b－審議会 c－委員会
- ウ a－内閣 b－審議会 c－公聴会
- エ a－裁判所 b－公聴会 c－審議会
- オ a－内閣 b－委員会 c－公聴会
- カ a－裁判所 b－公聴会 c－委員会

- (2) 法律案を審議する順番について述べた文として正しいものを、次のア～ウから一つ選び、記号で答えなさい。

- ア 衆議院から先に審議しなければならない。
- イ 参議院から先に審議しなければならない。
- ウ どちらの院から先に審議してもかまわない。

問4 下線部4に関して、次の各問いに答えなさい。

(1) 天皇について規定された次の日本国憲法の条文の[]に入る語を、漢字二字で答えなさい。

第一条 天皇は、日本国の象徴であり日本国民統合の象徴であつて、この地位は、[]の存する日本国民の総意に基く。

(2) 天皇の国事に関する行為として正しいものを、次のア～エから一つ選び、記号で答えなさい。

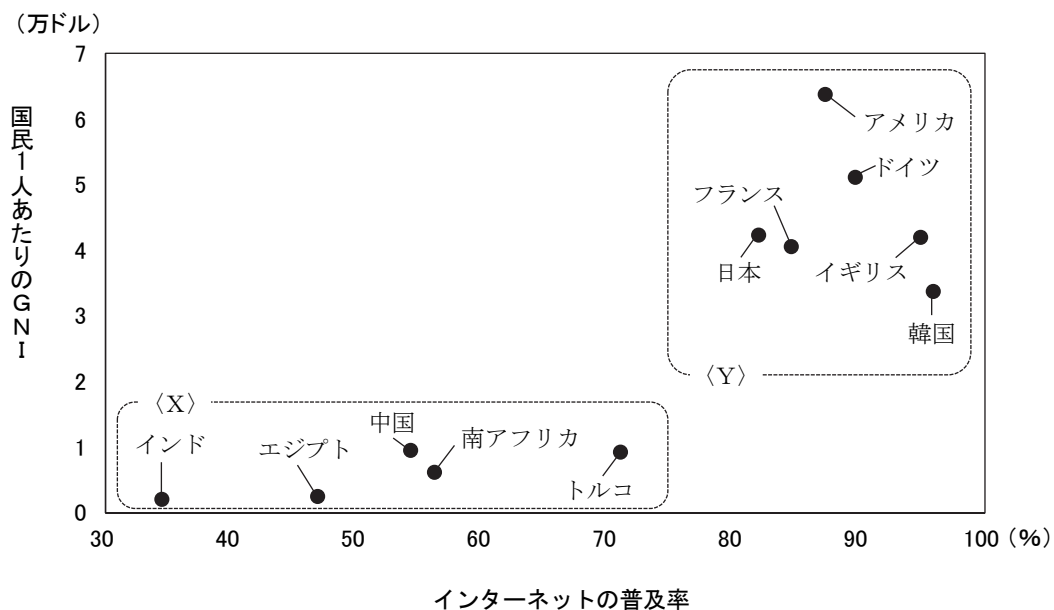
- ア 憲法改正を承認する。 イ 国会の開催を決定する。
- ウ 内閣総理大臣を指名する。 エ 衆議院を解散する。

問5 下線部5に関して、次の各問いに答えなさい。

(1) 現在、家庭電化製品などをインターネットに接続させ、遠隔で操作したり、製品の状態を把握したりすることがある。ものとインターネットをつなげるしくみの略称を何というか、次のア～エから一つ選び、記号で答えなさい。

- ア ICT イ IoT ウ MR エ VR

(2) 次のグラフは、いくつかの国において国民1人あたりのGNI（国民総所得）とインターネットの普及率を示したものである。グラフやそれに示してある国々について述べた文として正しいものを、あとのア～エから一つ選び、記号で答えなさい。



(「データブック オブ・ザ・ワールド 2021」「世界国勢図会 2021/22」より作成)

- ア <X> 内5か国のインターネット利用者の合計は、<Y> 内6か国のそれより少ない。
- イ インターネットの普及率の低い<X> 内の国に本社を置く通信機器製造企業はない。
- ウ <Y> 内6か国はすべて、2023年日本で開かれるG7サミットの参加国である。
- エ 国民1人あたりのGNIとインターネットの普及率は、相関関係にあるといえる。

問6 下線部6に関して、次の各問いに答えなさい。

- (1) 異なる通貨どうしを交換するときの比率を何というか、答えなさい。
- (2) 変動相場制は、(1)が刻々と変化するしくみである。この変化による影響について述べた文として正しいものを、次のア～エから一つ選び、記号で答えなさい。
ア ドルでの価格が同じ品物を海外から輸入するとき、円安のときの方が有利である。
イ 円安のときの方が、円高のときより日本の工場の海外移転が進む傾向にある。
ウ 海外を旅行するとき、円高になると、円安のときより円を多くの外国通貨に交換できる。
エ 円での価格が同じ品物を海外へ輸出するとき、円高のときの方が有利である。

問7 下線部7に関して、次の各問いに答えなさい。

- (1) ケネディ大統領の在任中、東西冷戦が深刻化した。ドイツのある都市では、都市を二分する壁がつくられ、冷戦の象徴と呼ばれた。壁がつくられた都市の名称を答えなさい。
- (2) ケネディ大統領は、在任中「消費者の四つの権利」を宣言し、日本の消費者行政に影響を与えた。日本ではその後、商品の欠陥が原因で被害を受けた場合の企業の責任について規定した法律が制定された。この法律の略称をアルファベット2字で答えなさい。

問8 下線部8に関して、次の各問いに答えなさい。

- (1) この出来事をきっかけとして、結果的に内閣不信任の決議案が可決された。内閣不信任の決議案が可決されたときの内閣の対応について説明した次の文の に入る語を、漢字三字で答えなさい。

衆議院で内閣不信任の決議案を可決したとき、10日以内に衆議院が解散されない限り、内閣は しなければならない。

- (2) 質問をした議員は、政権を担っていない政党に属していた。このような政党を何というか、答えなさい。

B日程

解答用紙〔社会〕

*印の欄は記入しないこと。

第一問

問1	天皇		問2	台地		問3	
問4	(1)	県	(2)	(3)	問5		
問6	(1)	(2)	m ²				
問7	(1)	川		(2)			
問8			問9		問10		
問11		問12		問13		小計 * _____	

第三問

問1	(1)		(2)		
問2	(1)	(2)	問3	(1)	(2)
問4	(1)	(2)	問5	(1)	(2)
問6	(1)	相場	(2)		
問7	(1)	(2)		法	
問8	(1)	(2)		小計 * _____	

第二問

問1		問2		問3		問4	
問5	天皇		問6		問7		
問8	→	→	→	問9			
問10		問11		問12			
問13	(1)	の大ききん	(2)				
問14		問15		問16		宗	
							小計 * _____

受験番号		得点	*
------	--	----	---

B 日程

解答用紙 [社会]

*印の欄は記入しないこと。

第一問

問1	後醍醐		天皇	問2	カルスト		台地	問3	ウ
問4	(1)	3	県	(2)	イ	(3)	ア	問5	ウ
問6	(1)	エ	(2)	62500		m ²			
問7	(1)	ナイル		川	(2)	ユ	ネ	ス	コ
問8	アパートヘイト			問9	華	人	問10	ア	
問11	ウ	問12	イ	問13	ウ		小計 * _____		

第二問

問1	エ	問2	ウ	問3	和同開珎		問4	ア		
問5	聖武		天皇	問6	多賀城		問7	イ		
問8	ア → ウ → エ → イ			問9	紀貫之					
問10	高麗		問11	ウ	問12	ア				
問13	(1)	天明	の大ききん	(2)	フランス					
問14	蔵屋敷		問15	エ	問16	天台		宗		
							小計 * _____			

第三問

問1	(1)	デフレーション		(2)	ア					
問2	(1)	ウ	(2)	持ちこませず		問3	(1)	オ	(2)	ウ
問4	(1)	主	権	(2)	エ	問5	(1)	イ	(2)	*
問6	(1)	為替		相場	(2)	ウ				
問7	(1)	ベルリン		(2)	P	L	法			
問8	(1)	総	辞	職	(2)	野党		小計 * _____		

* … 正解が複数あると想定できるため、全員を正答扱いとする。

受験番号		得点	*
------	--	----	---