

2020年度

尚絅学院高等学校  
入学試験問題

社 会

試験時間 (50分)

注 意 事 項

1. 「始め」の合図があるまで問題の表紙を開かないでください。
2. 解答用紙には決められた欄に受験番号のみ記入し、氏名は書かないでください。
3. 解答は必ず解答用紙のそれぞれ決められた欄に記入してください。
4. 印刷が見えにくい場合は、手をあげて監督者の指示に従ってください。
5. 考査が終わったら、解答用紙と問題用紙を別々にしておいてください。
6. その他すべて、監督者の指示に従ってください。

受験番号

## 第一問

[1] 次の文章は、「我が国と世界の結びつき」をテーマに班で調べ学習をした中学生の太郎さんと花子さんの会話である。それらに関する、あとの各問いに答えなさい。

太郎さん 日本から世界各地への航空路線や便数が増え、1 航空機で日本を訪れる人が増えているね。

花子さん そうですね。現在東京国際空港（羽田空港）はホンコンやソウルなどのように、放射状にのびる航空路の2 拠点の空港としての役割を果たせることをさらに目指しています。

太郎さん 2013年に日本を訪れる外国人の数が1,000万人を突破して以降、毎年訪日外国人数が増え続け、2018年には3,000万人を突破しました。そして、3 京都市を訪れる外国人宿泊客数も近年大きく増えています。

花子さん そんなに増えているのですね。そういえば、2016年には当時のオバマ大統領が現職のアメリカ大統領として初めて4 広島市を訪問したので、この都市への訪問者が増えると嬉しいです。

太郎さん 国際会議もたくさん日本で開かれ、2016年には世界の主要7か国が参加した5 伊勢志摩サミットが開催され、2019年には大阪市で20か国・地域が集まるG 20大阪サミットが開催されました。

花子さん 今後は、2020年に6 東京オリンピック・パラリンピックが開催され、2025年には7 大阪で万国博覧会も開催される予定です。

太郎さん 大阪では万国博覧会が8 1970年に開催されました。また、2005年には愛・地球博が9 愛知県で開催されています。

問1 下線部1に関して、航空機などの輸送手段や通信手段の発達により人、物、お金、情報が国境を越えて自由に行きかう傾向が強くなっている。このような世界の一体化の傾向を何というか、カタカナで答えなさい。

問2 下線部2に関して、このような国際線の乗り換え拠点としての役割を果たす空港を何というか、カタカナで答えなさい。

問3 下線部3に関して、次の表は京都に多くある国宝・重要文化財の都道府県別指定件数（建造物）をまとめたものである。表から読み取れる各文の正誤の組み合わせとして正しいものを、あとのア～エから一つ選び、記号で答えなさい。

順位	都道府県名	件数
1	京都	351
2	奈良	328
3	滋賀	208
4	兵庫	120
5	大阪	105
6	長野	93
7	和歌山	91
8	東京	85
9	愛知	84
10	広島	69

(文化庁ホームページより作成)

- X 表中には中部地方の県が3県含まれている。  
 Y 上位3府県のうち、2府県が海に面している。

- ア X-正 Y-正    イ X-正    Y-誤  
 ウ X-誤 Y-正    エ X-誤    Y-誤

問4 下線部4が含まれる瀬戸内工業地域に関して、次のグラフは瀬戸内工業地域の製造品出荷額に占める金属、機械、化学、食料品の出荷額の割合を示したものである。グラフ中のBにあてはまる工業で生産される製品を、あとのア～エから一つ選び、答えなさい。

2016年

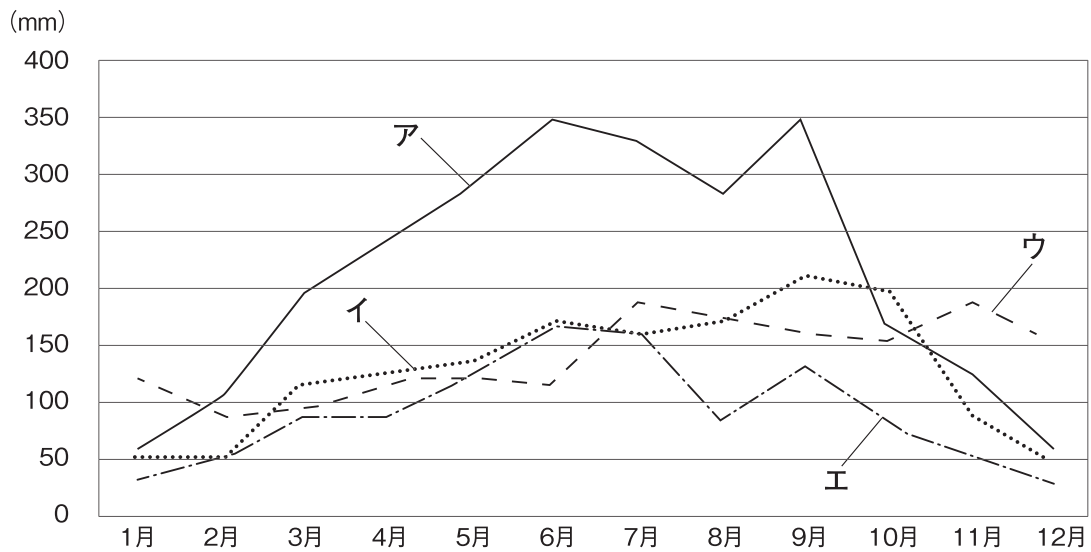


(「日本国勢図会2019/20」より作成)

- ア 缶づめ    イ 洋食器    ウ テレビ    エ せっけん

問5 下線部5に関して、志摩半島には多くの湾や岬をもつ複雑に入り組んだ地形の海岸がみられる。このような海岸を何というか、答えなさい。

問6 下線部6に関して、次のグラフは東京、高知市、秋田市、岡山市のいずれかの都市の月別平均降水量の変化を示したものである。東京にあてはまるものを、グラフ中のア～エから一つ選び、記号で答えなさい。



(「理科年表2019」より作成)

問7 下線部7に関して、次の文は大阪にかかわる歴史上の出来事を述べたものである。年代の古い順に並べたとき、3番目になるものを、ア～エから一つ選び、記号で答えなさい。

- ア 大阪町奉行所の元役人であった大塩平八郎が大阪で反乱を起こした。
- イ 堺の豪商である千利休が質素さと静かさを重んじるわび茶を完成させた。
- ウ 大阪夏の陣で、徳川家康が豊臣氏をほろぼした。
- エ 現在の大阪府内に日本で最大の前方後円墳がつくられた。

問8 下線部8に関して、次の文は日本の第二次世界大戦後のおもな出来事について述べたものである。そのうち、1970年代の出来事にあてはまるものを、次のア～エから一つ選び、記号で答えなさい。

- ア 日中共同声明を発表し、中国との国交を正常化した。
- イ 20年近く続くことになる高度経済成長がはじまった。
- ウ バブル経済といわれる好景気が終わった。
- エ 日韓基本条約を結び、韓国政府を朝鮮唯一の政府として承認した。

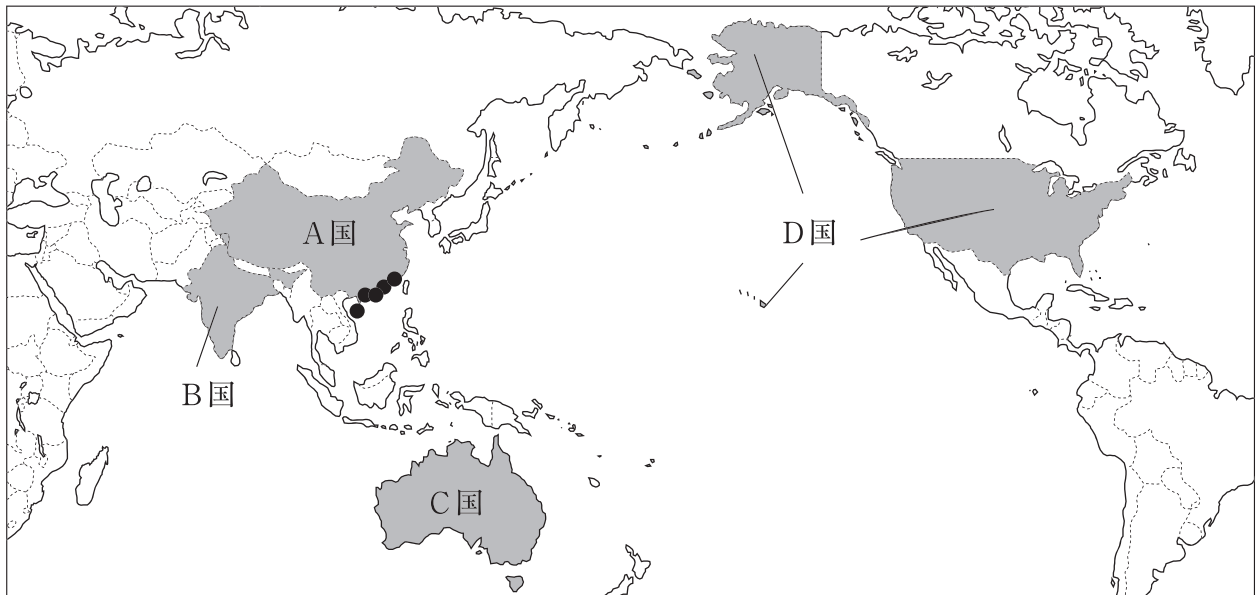


問9 下線部9に関して、次の地形図は愛知県名古屋市（国土地理院発行の2万5千分の1地形図『名古屋南部』を一部改変）のものである。この地形図の説明として誤っているものを、あとのア～エから一つ選び、記号で答えなさい。



- ア 南山大学からみて椋山女学園大学は北東の方角にある。
- イ 東山動植物園の西側には警察署がある。
- ウ 天白町の裏山には、針葉樹林や広葉樹林がみられる。
- エ この地図の西側の福原町には、老人ホームがある。

[2] 次の略地図を見て、あとの各問いに答えなさい。



問10 略地図中のA国～D国の首都のうち、2020年1月1日を一番遅く迎えたのはどの国の首都か、記号で答えなさい。

問11 略地図中の●は、A国が外国企業を受け入れるためにより条件で開放した地域の一つである。この対外開放政策の一つとしてA国が開放した行政地域を何というか、漢字4字で答えなさい。

問12 略地図中のB国について、次の各問いに答えなさい。

(1) B国の北東部は、熱帯気候に含まれ、その気候にある特徴がみられる。その気候の特徴について述べた次の文中の  に入る語を答えなさい。

熱帯にはうっそうとした森林が広がる熱帯雨林気候と、まばらの樹木とたけの長い草原が広がる  気候がある。

(2) B国のおよそ8割の国民が信じる宗教の特徴について述べた文を、次のア～エから一つ選び、記号で答えなさい。

ア 1日に5回、聖地の方向を向いてお祈りをする。

イ 男性は一生に一度は僧侶となって修行する。


ウ 牛は神の使いと考え、その肉は食べない。

エ 日曜日は仕事を休む日で、教会へ行く人が多い。



問13 略地図中のC国について、次の各問いに答えなさい。

- (1) 次のグラフはC国の貿易相手国の変化を示したものである。C国をかつて植民地としていた国にあてはまるものを、グラフ中のア～エから一つ選び、その国名とともに記号で答えなさい。



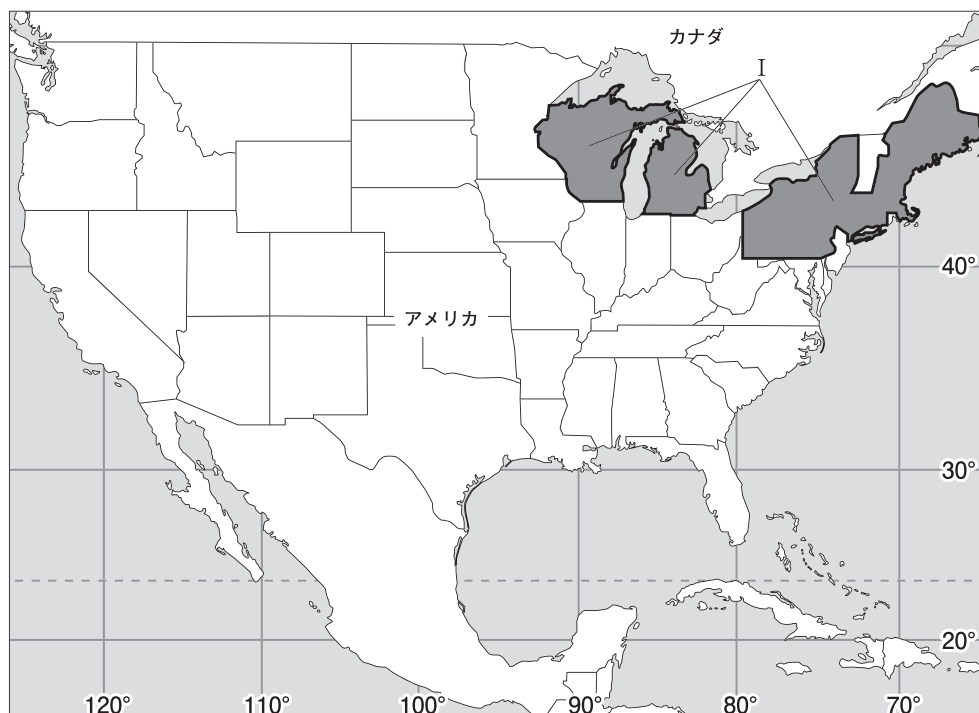
(「世界国勢図会2018/19」ほかより作成)

- (2) C国の社会にはある特徴がみられる。その特徴について述べた次の文中の  に入る語を漢字3字で答えなさい。

C国には多様な民族と共存し、それぞれの文化を尊重する  社会を築こうとしています。

問14 略地図中のD国について、次の各問いに答えなさい。

- (1) D国は世界有数の農産物輸出国であり、次の表はD国の農業地域を示している。地図中のIで示した地域でさかんな農業は何か、答えなさい。



(「グーズ世界地図2010年版」ほかより作成)

- (2) D国の企業について述べた次の文中の  に入る語を、漢字5字で答えなさい。

D国の企業の中には  として、世界各地に支社や子会社、販売や生産の拠点をづくり、進出した地域の社会や経済に大きな影響をあたえるものがあります。

## 第二問

桜さんは、仙台に遊びに来る関西在住の親戚のために、県内や市内の遺跡や史跡、名勝の内容を次のA～Fのカードにまとめました。あとの各問いに答えなさい。

### A 【縄文の森広場】

仙台市太白区山田にある縄文時代の集落跡を保存・活用するために作られた施設。土屋根の

① を復元し、当時の様子を再現している。

### B 【定義如来西方寺】

平家の一族である平貞能<sup>たいらのさだよし</sup>は、源氏の追討を逃れるべく現在の仙台の地に隠れた。その際に名を「定義」と改めたことが、西方寺本尊の名の由来とされている。

### C 【岩切城跡】

国指定の史跡となっている岩切城は、南北朝時代から戦国時代にかけての山城である。現在は県民の森として憩いの場となっている。

### D 【東照宮】

徳川家康を祀り、鬱蒼<sup>うっそう</sup>たる木立の中に鎮める伊達文化の粋・最高の技を結集した古社。仙台藩の2代藩主伊達忠宗によって創建された。

### E 【おくのほそ道の風景地】

俳諧<sup>はいかい</sup>を芸術にまで高めた松尾芭蕉が記した『おくのほそ道』に登場する名勝として「壺碑」<sup>つぼのいし</sup>「興井」<sup>まがき</sup>「末の松山」「籬が島」が文化財指定されている。

### F 【仙台城址】

伊達政宗が築城。天守閣がなく、天然の要害を利用。1明治維新以後の戦死・戦没者を祀っている護国神社は2仙台城跡にあり、初詣や3七五三等で賑わいを見せている。

問1 カードAについて、次の各問いに答えなさい。

- カード中の①に入る住居の名称を答えなさい。
- 下線部の時代の代表的な遺跡で、5500年ほど前から1500年以上続き、最大で500人が住んでいたといわれる、青森市にある遺跡の名称を答えなさい。

問2 カードBについて、次の各問いに答えなさい。

- 下線部に関連して、平清盛は中国との貿易を進めた。その時の中国の王朝名を答えなさい。
- 次の文章は、平清盛の政治について桜さんがまとめたものである。文中の□に入る語を答えなさい。

平清盛は武士として初めて政治の実権を握り、□となって一族を朝廷の高い官職などにつけた。



問3 カードCについて、次の各問いに答えなさい。

(1) 下線部の時代の東アジア世界の様子について説明した次の各文について、その正誤の組合せとして正しいものを、次のア～エから選びなさい。

X 朝鮮半島では、李舜臣が高麗を倒し、朝鮮という国を建てた。

Y 琉球王国が、東アジアと東南アジアの国々とを結ぶ中継貿易で栄えた。

Z 和人の蝦夷地進出に対して、アイヌの人たちはシャクシャインを中心に立ち上がった。

ア X－誤 Y－正 Z－正      イ X－正 Y－誤 Z－誤

ウ X－誤 Y－正 Z－誤      エ X－正 Y－誤 Z－正

(2) 下線部の時代、京都や奈良などで高利貸しを営んだものとしては、酒屋の他に何があるか、答えなさい。

(3) 下線部の時代の文化を代表するものとして正しいものを、次のア～エから一つ選び、記号で答えなさい。

ア 東大寺南大門

イ 東求堂同仁齋

ウ 平等院鳳凰堂

エ 唐獅子図屏風

(4) 次の資料は、この時代に領国支配のために戦国大名が決まりとして制定したものの一部である。この資料の決まりを定めた大名として正しいものを、あとのア～エから選びなさい。

資料

一 けんかをした者は、いかなる理由による者でも処罰する。

一 許可を得ないで他国へおくり物や手紙を送ることは一切禁止する。 (甲州法度之次第)

ア 朝倉氏      イ 今川氏      ウ 上杉氏      エ 武田氏

(5) 次のa～cは下線部の時代の出来事である。年代の古い順に正しく並べているものを、あとのア～カから一つ選び、記号で答えなさい。

a 足利義昭が追放され、室町幕府が減じる。

b 安土城下で楽市・楽座を行う。

c 長篠の戦いで織田信長が勝利する。

ア a→b→c      イ a→c→b      ウ b→a→c

エ b→c→a      オ c→a→b      カ c→b→a

問4 カードDについて、次の各問いに答えなさい。

- (1) 下線部の人物は近隣の国々との友好的な外交に取り組み、海外への渡航許可証を大商人や大名に与え、収入の一部を幕府へ納めさせる形で、貿易を幕府の統制下においた。この渡航許可証を何というか、答えなさい。
- (2) 下線部の人物は17世紀のはじめに江戸幕府を開いた。17世紀の世界の出来事について述べた文として正しいものを、次のア～エから一つ選び、記号で答えなさい。
- ア 東ローマ帝国が滅んだ。  
イ イギリスでピューリタン革命がおこった。  
ウ スペインがインカ帝国を滅ぼした。  
エ インド大反乱がおこった。
- (3) 次の文章は下線部の人物が開いた江戸幕府における体制についてについて桜さんがまとめたものである。文中の  に入る語を答えなさい。

大名には、将軍家の一族である親藩などの大名がいました。伊達政宗は、関ヶ原の戦いの前後に徳川家の家臣となった  大名です。

問5 カードEについて、次の各問いに答えなさい。

- (1) 下線部の人物は江戸時代の前半に活躍し、俳諧を芸術にまで高めた。この時代の文化の特徴について述べた文として正しいものを、次のア～エから一つ選び、記号で答えなさい。
- ア 豪華で壮大な、活気あふれる文化。  
イ 上方中心の、町人をにない手とする文化。  
ウ 公家文化と武家文化が交じり合った文化。  
エ 武士や民衆にもわかりやすい文化。
- (2) 次の文章は下線部の人物が活躍したころの文化について桜さんがまとめたものである。文中の  に入る語を答えなさい。

菱川師宣は、町人の風俗をえがき、  の祖となった。

問6 カードFについて、次の各問いに答えなさい。

(1) 下線部1に関わる下記の一連の改革について、年代の古い順に並べたとき、3番目になるものを、次のア～エから一つ選び、記号で答えなさい。

ア 地租改正    イ 五箇条の御誓文    ウ 版籍奉還    エ 廃藩置県

(2) 下線部2に関して、仙台市のほか、札幌市や広島市、福岡市などのその地方の政治・経済・文化の中心となっている都市を何というか、答えなさい。

(3) 下線部3に関して、次の文章は桜さんがまとめたものである。文中の（ A ）、（ B ）に入る語の組み合わせとして正しいものを、あとのア～エから一つ選び、記号で答えなさい。

七五三は（ A ）月に子どもの成長を祝うために行われる日本の年中行事の一つです。そのほかの年中行事として、4月に行われるシャカの生誕を祝福する（ B ）があります。

ア A - 11    B - 花祭り    イ A - 11    B - お盆

ウ A - 3    B - お盆    エ A - 3    B - 花祭り

### 第三問

清さんは、地方自治制度について調べるため、宮城県や県内の市町の資料を集め、その内容を次のA～Eのカードにまとめました。あとの各問いに答えなさい。

#### A 【仙台市男女共同参画条例前文（一部）】

我が国においては、1日本国憲法に個人の尊重と法の下での平等がうたわれており、男女2平等をめざす取組は、女子に対するあらゆる形態の差別の撤廃に関する条約の批准など3国際社会における取組とも連動しつつ進められ、本市においても、市民活動との連携を図りながら着実に展開されてきた。

#### B 【宮城県将来ビジョン（一部）】

取組28 廃棄物等の43Rと適正処理の推進  
取組30 5住民参画型の社会資本整備や良好な景観の形成

#### C 【犯罪のない安心なまちづくり・みやぎ6安全各種防犯指針（一部）】

○基本的な考え方

7犯罪被害対象への犯罪企図者の接近の禁止

#### D 【みやぎ国際戦略プラン（一部）】

○現課題

中国・吉林省、8米国（アメリカ）・デラウェア州、ロシア・ニジェゴロド州など、海外の省州と友好関係等を締結し、良好な関係を継続してきました。また、JICA事業を活用して9発展（開発）途上国に対して技術の定着等に10貢献するなど、協力活動を行ってきました。

#### E 【新・みやぎ財政運営戦略（一部）】

(1) 目標

目標1：11財政の健全化と12持続可能な13財政運営の実現

問1 カードAについて、次の各問いに答えなさい。

(1) 下線部1に関連して、次の各文は大日本帝国憲法（明治憲法）についての記述である。誤っているものを、次のア～エから一つ選び、記号で答えなさい。

- ア この憲法はドイツ（プロイセン）の憲法を手本にして作成された。
- イ この憲法草案は枢密院において審議・修正された。
- ウ この憲法の発布後、伊藤博文が初代内閣総理大臣に就任した。
- エ この憲法は天皇が国民に与えるという形式で発布された。

(2) 下線部2に関して、憲法第14条において法の下での平等が定められている。次のア～エの法律で定められていることがらのうち、法の下での平等にあたるものを一つ選び、記号で答えなさい。

- ア あらかじめ法律によって定めなければ、刑罰を与えることはできない。
- イ 一定割合以上の障害者を雇用することが企業に義務付けられている。
- ウ 苦情や法律を制定する希望を述べる権利が認められている。
- エ 国民は自分たちの意思で、契約を結んだり解除したりできる。



- (3) 下線部3に関して、人権の確立は国際社会においても取組が進められている。次の資料は1989年に国連で採択され、日本は1994年に批准したある条約の一部である。この条約の名称を答えなさい。

資料

第1条

この条約の適用上、児童とは、18歳未満のすべての者をいう。ただし、当該児童で、その者に適用される法律により早く青年に達したものを除く。

第12条

締約国は、自己の意見を形成する能力のある児童がその児童に影響を及ぼすすべての事項について自由に自己の意見を表明する権利を確保する。

問2 カードBについて、次の各問いに答えなさい。

- (1) 下線部4に関して、次の文中の  にあてはまる語を答えなさい。

ペットボトルやごみの分別回収、携帯電話やパソコンなどのリサイクル、ごみ収集の有料化に協力するなど、身近なことが生活環境の改善や資源の保全に役立ち、 型社会を築くことにつながります。

- (2) 下線部5に関して、住民の暮らしに密着した政治を行う地方自治制度には、直接請求制度など住民参画を保障するしくみがある。直接請求制度について述べた次の文中の ( A )、( B ) に入る語の組み合わせとして正しいものを、あとのア～エから一つ選び、記号で答えなさい。

条例制定の請求の場合は、必要な署名は有権者の ( A ) 以上であり、請求先は ( B ) である。

- ア A - 3分の1    B - 首長    イ A - 50分の1    B - 首長  
ウ A - 50分の1    B - 議長    エ A - 3分の1    B - 議長

問3 カードCについて、次の各問いに答えなさい。

- (1) 下線部6に関して、地震や洪水のほか、場所に応じて津波、火災の噴火などの被害の予測とともに、避難場所や防災施設の情報などが盛り込まれた地図を何というか、カタカナで答えなさい。

- (2) 下線部7に関して、清さんはさらに調べ、次のメモを作成した。メモ中の  に入る語を答えなさい。

日本国憲法は法律に定められた手続きによらなければ刑罰を科せられず、また令状がなければ原則として逮捕されません。このことは基本的人権のうちの  権を保障したものです。

問4 カードDの下線部8について、次の各問いに答えなさい。

- (1) 次の資料はアメリカで18世紀に出された、世界の人権確立に関わる歴史的な文書の一部である。この名称を答えなさい。

資料

我々は以下のことを自明の真理であると信じる。人間はみな平等に創られ、ゆずりわたすことのできない権利を創造主によってあたえられていること、その中には、生命、自由、幸福の追求がふくまれていること、である。

- (2) 次の表は、アメリカをはじめとする国際連合の常任理事国5か国の統計である。そのうちE国にあてはまる国名を答えなさい。

	A国	B国	C国	D国	E国
面積 (千km <sup>2</sup> )	9,834	17,098	9,600	242	552
人口密度 (1km <sup>2</sup> あたり人)	33	8	147	275	118
おもな輸出相手国 (輸出額上位3国)	カナダ メキシコ 中国	オランダ 中国 ドイツ	アメリカ 日本 韓国	アメリカ ドイツ フランス	ドイツ スペイン アメリカ

(「世界国勢図会2018/19」から作成)

問5 カードDの下線部9について、次の各問いに答えなさい。

- (1) 発展途上国と先進国との間の格差に関わる様々な問題を何とというか、漢字4字で答えなさい。
- (2) (1)の問題を解決するために1964年に創設された国際機関を、次のア～エから一つ選び、記号で答えなさい。

ア UNCTAD    イ UNICEF    ウ UNHCR    エ UNESCO

問6 カードDの下線部10について、次の各問いに答えなさい。

- (1) 次のグラフは、日本の国際貢献の一つである政府開発援助（ODA）の地域別の割合を示したものである。グラフ中のA，B，Cが示す地域の組み合わせとして正しいものを、あとのア～エから一つ選び、記号で答えなさい。



(2015年) (OECD資料より作成)

- |                |              |              |
|----------------|--------------|--------------|
| ア A－中東         | B－アジア（中東を除く） | C－アフリカ       |
| イ A－アジア（中東を除く） | B－中東         | C－アフリカ       |
| ウ A－アジア（中東を除く） | B－アフリカ       | C－中東         |
| エ A－アフリカ       | B－中東         | C－アジア（中東を除く） |

注)「中東」…西アジアのこと。

- (2) 日本は国際貢献の一つとして国際連合の下で平和維持活動に参加している。日本の平和維持活動についての記述として誤っているものを、次のア～エから一つ選び、記号で答えなさい。

- ア 日本が平和維持活動に参加するきっかけとなったのはイラク戦争である。  
 イ カンボジアに自衛隊員と文民警察官を派遣したのが最初である。  
 ウ この活動は国連の総会または安全保障理事会の決議によって行われる。  
 エ この活動について、国際連合憲章では規定されていない。

問7 カードEについて、次の各問いに答えなさい。

- (1) 下線部11に関して、次の表は宮城県の財政収入の内訳である。表中のXに入る語を答えなさい。

総額：1兆4,855億円

地方税 19.6%	その他 32.0%	国庫支出金 18.6%	X 13.6%	県債 13.7%	その他 2.5%
自主財源			依存財源		

(2018年度予算) (宮城県ホームページより作成)

(2) 下線部12に関して、1992年にブラジルのリオデジャネイロで開催された国際会議で「持続可能な社会」についてが討議された。この国際会議の名称を答えなさい。

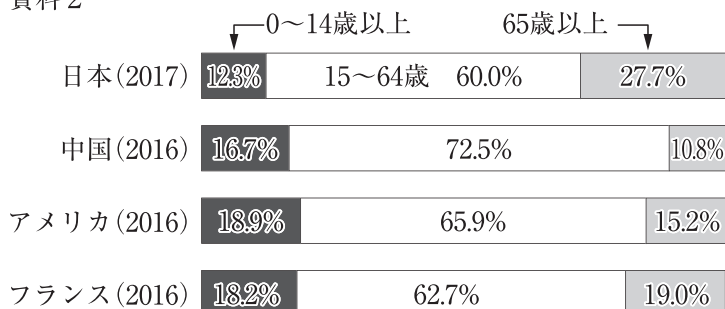
(3) 下線部13に関して、次の資料1はおもな国々の人口と財政に占める教育費、社会保障費の割合、資料2は年齢別人口割合を示したものである。資料1、資料2から読み取れる内容として正しいものを、あとのア～エから一つ選び、記号で答えなさい。

資料1

	人口 (万人)	財源支出割合	
		教育費 (%)	社会保障・ 福祉(%)
日本	12,719	6.3	31.6
中国	141,505	12.8	27.1
アメリカ	32,677	16.2	20.8
フランス	6,523	9.6	43.1

(「世界国勢図会2018/19」から作成)

資料2



(「世界国勢図会2018/19」から作成)

ア 日本より社会保障への財政支出割合の高い国は、日本より0～14歳の人口が多い。

イ 高齢者の人口が一番多い国は、高齢化率が4か国中一番高い。

ウ 教育費への財政支出割合が一番高い国は、高齢者人口が3番目に多い。

エ 教育費と社会保障費を合計した財政支出割合が50%を超える国は、1か国である。



**A日程**

**解答用紙〔社会〕**

\*印の欄は記入しないこと。

第一問

問1	化		問2	空港		問3	
問4	問5	海岸		問6			
問7	問8	問9	問10				
問11			問12 (1)			(2)	
問13 (1)	国名：		記号：	(2)			
問14 (1)			(2)				

小計 \* \_\_\_\_\_

第三問

問1 (1)	(2)	(3)					
問2 (1)			(2)				
問3 (1)			(2)				
問4 (1)			(2)				
問5 (1)			(2)	問6 (1)	(2)		
問7 (1)			(2)				(3)

小計 \* \_\_\_\_\_

第二問

問1 (1)	住居		(2)	遺跡				
問2 (1)			(2)					
問3 (1)	(2)			(3)	(4)	(5)		
問4 (1)			(2)	(3)				
問5 (1)	(2)							
問6 (1)	(2)	都市		(3)				

小計 \* \_\_\_\_\_

受験番号		得点	*
------	--	----	---

【2020 年度入学試験解答例 A 日程/社会】

A 日程

第一問 (各 2 点 計 34 点)

問 1 グローバル (化)

問 2 ハブ (空港)

問 3 エ

問 4 ウ

問 5 リアス (海岸)

問 6 イ

問 7 ウ

問 8 ア

問 9 イ

問 10 D (国)

問 11 経済特区〔漢字 4 字指定〕

問 12(1) サバナ

(2) ウ

問 13(1) 国名：イギリス 記号：ウ〔完答〕

(2) 多文化〔漢字 3 字指定〕

問 14(1) 酪農

(2) 多国籍企業〔漢字 5 字指定〕

第二問 (各 2 点 計 34 点)

問 1(1) 竪穴 (住居)

(2) 三内丸山 (遺跡)

問 2(1) 宋

(2) 太政大臣

問 3(1) ウ

(2) 土倉

(3) イ

(4) エ

(5) イ

問 4(1) 朱印状

(2) イ

(3) 外様

- 問5(1) イ  
(2) 浮世絵

- 問6(1) エ  
(2) 地方中枢(都市)  
(3) ア

第三問(各2点 計32点)

- 問1(1) ウ  
(2) イ  
(3) 児童(子ども)の権利(に関する)条約

- 問2(1) 循環  
(2) イ

- 問3(1) ハザードマップ  
(2) 自由

- 問4(1) (アメリカ)独立宣言  
(2) フランス

- 問5(1) 南北問題〔漢字4字指定〕  
(2) ア

- 問6(1) ウ  
(2) ア

- 問7(1) 地方交付税(地方交付税交付金)  
(2) 国連環境開発会議(地球サミット)／環境と開発に関する国連会議  
(3) エ